





1 أَحْسِبْ عَمُودِيًّا .

$69 + 17$

$45 + 48$

$82 + 17$

$29 + 59$

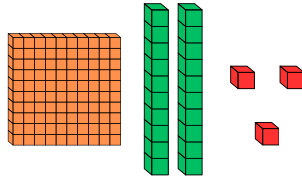
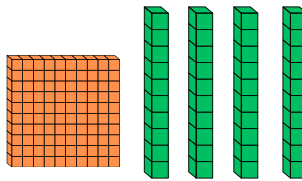


2 أَكْمِلِ الْجَدْوَلَ بِحِسَابِ الضَّعْفِ وَ النِّصْفِ فِي كُلِّ مَرَّةٍ .

نِصْفُهُ	العدد	ضِعْفُهُ
	24	
	48	
	100	

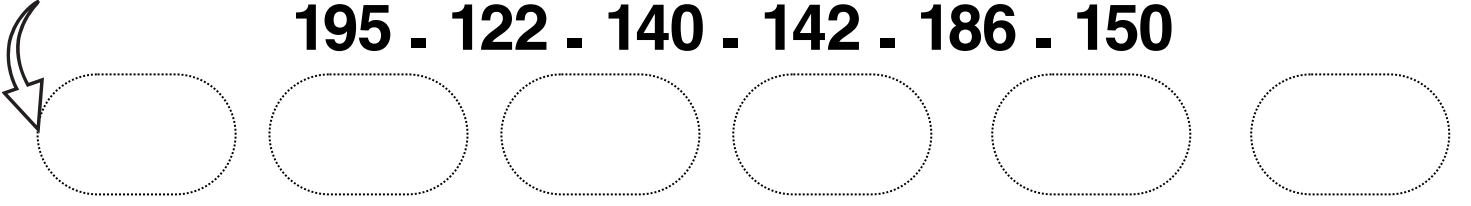
نِصْفُهُ	العدد	ضِعْفُهُ
	12	
	20	
	50	

3 أَكْمِلْ كَمَا فِي الْمِثَالِ .

	$100 + 20 + 3$	123 مِئَةٌ وَ ثَلَاثَةٌ وَ عِشْرُونَ
	$100 + 50 + 7$	..... .....
	..... + ..... + .....	189 .....
	..... + ..... + .....	..... .....

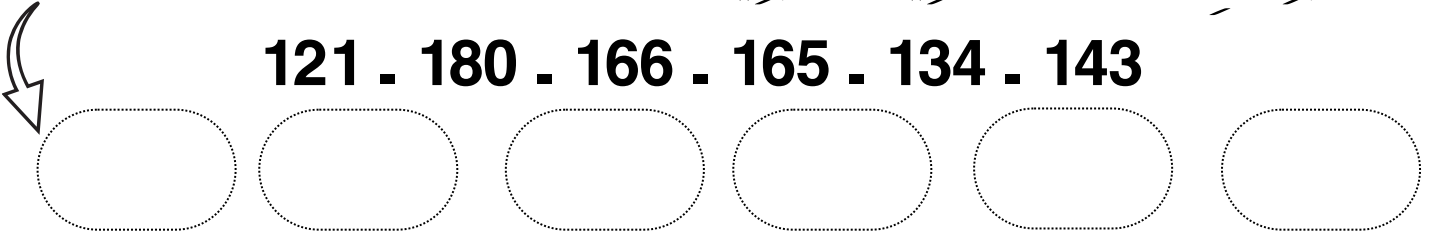
1 - رتّب الأعداد التّالية تصاعديًا .

195 . 122 . 140 . 142 . 186 . 150




2 - رتّب الأعداد التّالية تنازليًا .

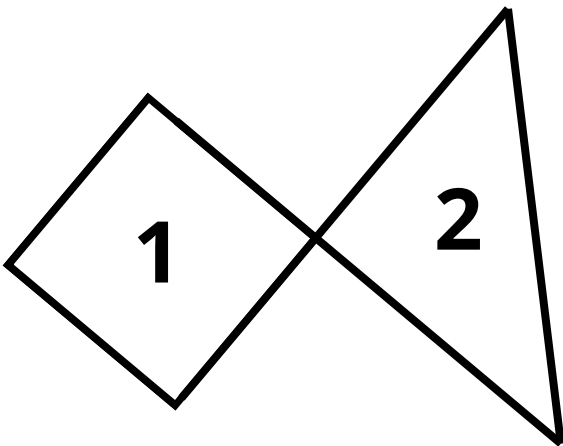
121 . 180 . 166 . 165 . 134 . 143



5 عيّن المضلّعات من بين الأشكال التّالية بوضع إشارة X ثمّ لوّن الزّوايا القائمة في كلّ مضلّع



6 أكمل الفراغات بما يناسبها .



يتكوّن الشكلُ المُقابلُ من :

1 - .....

2 - .....

عدّد الزّوايا القائمة في هذا الشكل هو .....

ذهب يحيى و أيوب إلى المكتبة لشراء بعض الأدوات .  
أخذ كل واحد منهما مبلغًا من المال .

أيوب

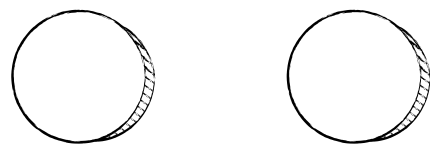
يحيى




1 - يملك يحيى ..... دج 2 - يملك أيوب ..... دج

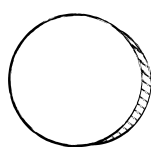
3 - اشترى يحيى مقلمة  بـ 220 دج

4 - أكمل رسم القطع النقدية التي يعطيها يحيى للبائع .



5 - أما أيوب فأراد شراء كتاب  سعره 350 دج فوجد أن المبلغ الذي معه لا يكفي لشراء الكتاب ، فاقترح عليه يحيى أن يقرضه قطعة نقدية ليشتري الكتاب .

6 - أكمل رسم القطعة النقدية التي سيقرضها يحيى لأيوب .



## 8 لَاحِظِ الْجَدْوَلَ ثُمَّ اكْمِلِ .

سِعْرُ الْمَوْزِ هُوَ ..... دَج  
 سِعْرُ ..... 120 دَج  
 سِعْرُ التَّفَّاحِ هُوَ ..... دَج  
 سِعْرُ ..... 290 دَج

جَدْوَلُ الْأَسْعَارِ	
290 دَج	
120 دَج	
250 دَج	
450 دَج	

9

عِنْدَ الْعَمِّ أَحْمَدَ 95 كِبْشًا ، بِمُنَاسَبَةِ عِيدِ الْأَضْحَى بَاعَ 85 كِبْشًا .  
 1 - كَمْ كِبْشًا بَقِيَ لِلْعَمِّ أَحْمَدَ فِي الْمَزْرَعَةِ ؟

..... = .....

بَقِيَ لِلْعَمِّ أَحْمَدَ فِي الْمَزْرَعَةِ ..... كِبَاشٍ

2 - تَصَدَّقَ الْعَمُّ أَحْمَدُ بِنِصْفِ عَدَدِ الْكِبَاشِ الْمُتَبَقِّيَةِ .

2 - مَا هُوَ عَدَدُ الْكِبَاشِ الَّتِي تَصَدَّقَ بِهَا الْعَمُّ أَحْمَدُ ؟

عَدَدُ الْكِبَاشِ الَّتِي تَصَدَّقَ بِهَا الْعَمُّ أَحْمَدُ ..... كِبَاشٍ .